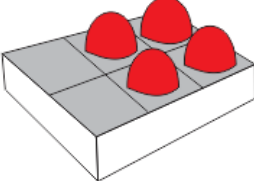
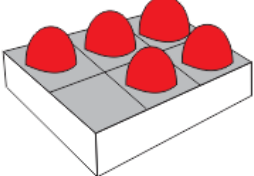


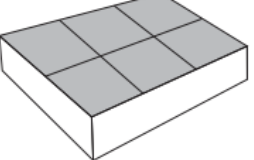


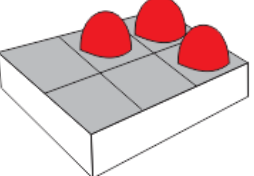
Направи 6- вовед во собирање

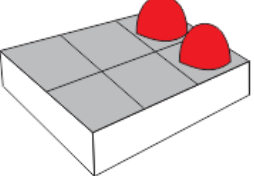
1 Доцртај потребен број топчиња за кутијата да биде полна, а потоа одговори на прашањата

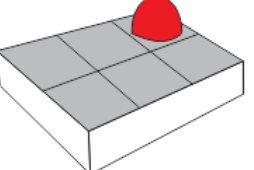
а)  Во кутијата на почетокот имаше _____ топчиња.
Доцртав уште _____ топчиња за да биде полна.
Сега во кутијата има вкупно _____ топчиња.

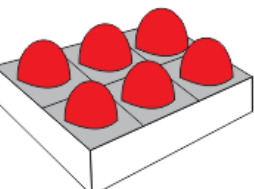
б)  Во кутијата на почетокот имаше _____ топчиња.
Доцртав уште _____ топче за да биде полна.
Сега во кутијата има вкупно _____ топчиња.

в)  Во кутијата на почетокот имаше _____ топчиња.
Доцртав уште _____ топчиња за да биде полна.
Сега во кутијата има вкупно _____ топчиња.

г)  Во кутијата на почетокот имаше _____ топчиња.
Доцртав уште _____ топчиња за да биде полна.
Сега во кутијата има вкупно _____ топчиња.

д)  Во кутијата на почетокот имаше _____ топчиња.
Доцртав уште _____ топчиња за да биде полна.
Сега во кутијата има вкупно _____ топчиња.

ѓ)  Во кутијата на почетокот имаше _____ топче.
Доцртав уште _____ топчиња за да биде полна.
Сега во кутијата има вкупно _____ топчиња.

е)  Во кутијата на почетокот имаше _____ топчиња.
Доцртав уште _____ топчиња за да биде полна.
Сега во кутијата има вкупно _____ топчиња.