



Направи 7- вовед во собирање

1 Изброј ги точките на коцките и запиши го нивниот број во квадратчето, а потоа запиши колку точки се вкупно.

а)  и  се вкупно

б)  и  се вкупно

в)  и  се вкупно


г)  и  се вкупно



д)  и  се вкупно

ѓ)  и  се вкупно

2 Изброј ги топчињата на бројалката и запиши го нивниот број во квадратчето.

 и е исто со  и

 и е исто со  и

 и е исто со  и